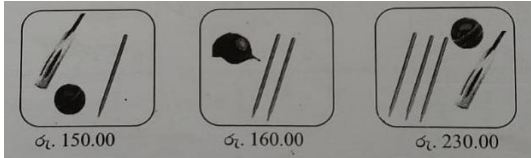




## මිශ්‍ර ප්‍රශ්න පත්‍ර - (2023)

## 5 - ශ්‍රේණිය

මිල දර්ශනයේ ඇති තොරතුරු ඇසුරෙන් ප්‍රශ්න වලට පිළිතුරු සපයන්න



(01) බෝතලයක සහ පිත්තක මිල වන්නේ,

- 1) රු . 110                      2) රු . 100                      3) රු . 120

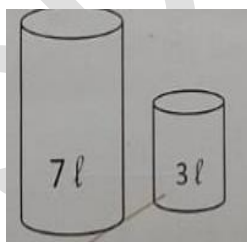
(02) තොප්පියක් මිලදී ගැනීමට අවශ්‍ය මුදල වන්නේ,

- 1) රු . 40                      2) රු. 80                      3) රු . 50

(03) දෙපසම සමාන පිළිතුර තෝරන්න.

- 1) A I 2 L 4 8 = A I 2 N 4 8  
2) K 3 B P 9 7 5 = K 3 P 9 7 5  
3) U L 4 T A 5 M = U L 4 I 4 S M

(04) සහන් ජල බේසමක් රැගෙන රූපයේ දැක්වෙන ආකාරයේ භාජන දෙකක් ගෙන ජලය ලීටර් එකක් සහ ලීටර් දෙකක් මැන ගැනීමට උත්සාහ කරයි. ඔහුට එය නිවැරදිව මැන ගත හැකිද ?



- 1) හැකිය                      2) නොහැකිය                      3) කිව නොහැකිය

(05) පහත රටා වල හිස් කොටු වලට ආ යුතු සංඛ්‍යා ඇතුළත් පිළිතුර තෝරන්න.

5	10	15	20
40			25
45			60

25	30
35	40

1)

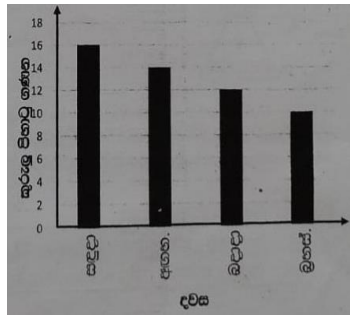
35	30
50	55

2)

35	30
50	60

3)

(06) පහත ප්‍රස්ථාරයේ දැක්වෙන්නේ දින හතරක් තුළ අමාඡ එකතු කරන ලද කුරුලු පිහාටු පිළිබඳව තොරතුරුයි. ඒ අනුව අමාඡ සිකුරාදා දින කුරුලු පිහාටු කීයක් අහුලයි ද ?

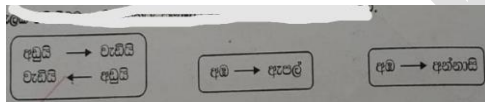


1) දොළහයි

2) අටයි

3) හයයි

(07) වෙළඳ සැලක විකිණීමට ඇති පලතුරු ප්‍රමාණ පිළිබඳ තොරතුරු පහත දැක්වේ.



වෙළඳසැලේ අඩුවෙන්ම ඇත්තේ කුමන පලතුරද ?

1) අඹ

2) ඇපල්

3) අන්නායි

(08) තාත්තා ඉන්ධන පිරවුම්හලට ගොස් පෙට්‍රල් ..... පහක් ගෙනාවේය.

1) මීටර

2) ලීටර

3) කිලෝග්‍රෑම්

(09) මට ගවුමක් මැසීමට රෙදි .....  $2 \frac{1}{2}$  ක් අවශ්‍ය බව අම්මා කීවාය.

1) සෙන්ටිමීටර

2) මීටර

3) කිලෝමීටර

(10) බසයක සිටින පිරිමි මගින් සංඛ්‍යා එහි සිටින ගැහැනු මගින් සංඛ්‍යා මෙන් දෙගුණයකි. එහි සිටින ගැහැනු මගින් සංඛ්‍යාව 15 ක් නම් බසයේ සිටින මුළු මගින් ගණන කොපමණද ?

1) 25

2) 35

3) 45

## පිළිතුරු

01) 1

02) 2

03) 2

04) 1

05) 2

06) 2

07) 1

08) 2

09) 2

10) 3

a3book.com